

## BÀI KIỂM TRA GIỮA HỌC KỲ I - ĐỀ SỐ 1

### I. TRẮC NGHIỆM: Khoanh tròn vào chữ cái đặt trước câu trả lời đúng

1. Cho các số: 928; 982; 899; 988. Số lớn nhất là:

- A. 928                      B. 982                      C. 899                      D. 988

2. ....- 300 = 40. Số thích hợp để điền vào ô trống là:

- A. 260                      B. 340                      C. 430                      D. 240

3.  $\frac{1}{4}$  của 24cm là:

- A. 12cm                      B. 8cm                      C. 6cm                      D. 4cm

4. Kết quả của phép nhân  $28 \times 5$  là:

- A. 410                      B. 400                      C. 140                      D. 310

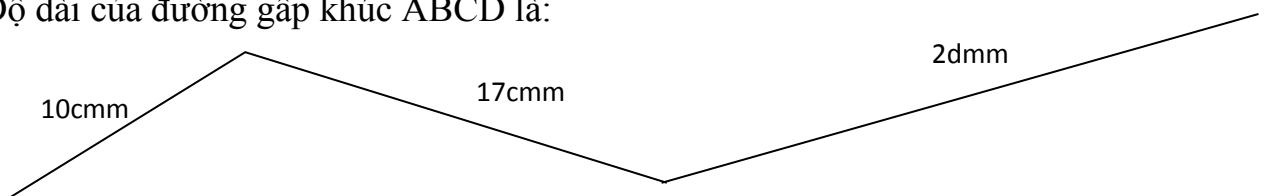
5. Kết quả của phép chia  $36 : 4$  là:

- A. 4                      B. 6                      C. 8                      D. 9

6. Cho dãy số: 9; 12; 15; ...; ...; ...; Các số thích hợp để điền vào chỗ chấm là:

- A. 18; 21; 24                      B. 16; 17; 18                      C. 17; 19; 21                      D. 18; 20; 21

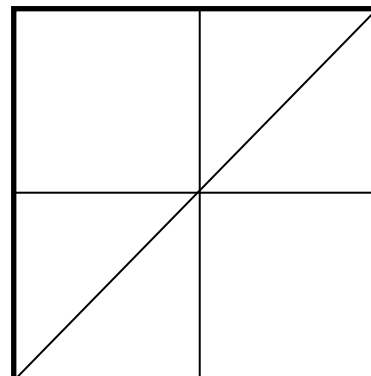
7. Độ dài của đường gấp khúc ABCD là:



- A. 68cm                      B. 29dm                      C. 29cm                      D. 47cm

8. Hình bên có:

- A. 9 hình chữ nhật, 4 hình tam giác  
 B. 8 hình chữ nhật, 4 hình tam giác  
 C. 9 hình chữ nhật, 6 hình tam giác



9. Nối cho thích hợp:

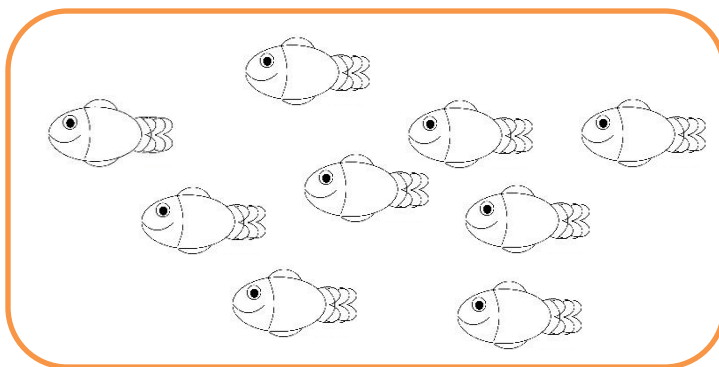


8dm

3m

130cm

10. Tô màu  $\frac{1}{3}$  số con cá:



## II. PHẦN TỰ LUẬN:

**Bài 1:** Đặt tính rồi tính

a)  $248 + 136$

b)  $375 - 128$

c)  $48 \times 6$

d)  $49 : 7$

.....

.....

.....

.....

.....

## Bài 2: Tính

a)  $84 \times 7 - 99$

b)  $23 \times 9 + 15$

.....

.....

.....

## Bài 3: Tìm x

a)  $x \times 6 = 42$

b)  $24 : x = 4$

.....

.....

.....

**Bài 4:** Đoạn dây thứ nhất dài 18dm, đoạn dây thứ hai dài gấp 6 lần đoạn dây thứ nhất. Hỏi đoạn dây thứ hai dài bao nhiêu đề-xi-mét ?

.....

.....

.....

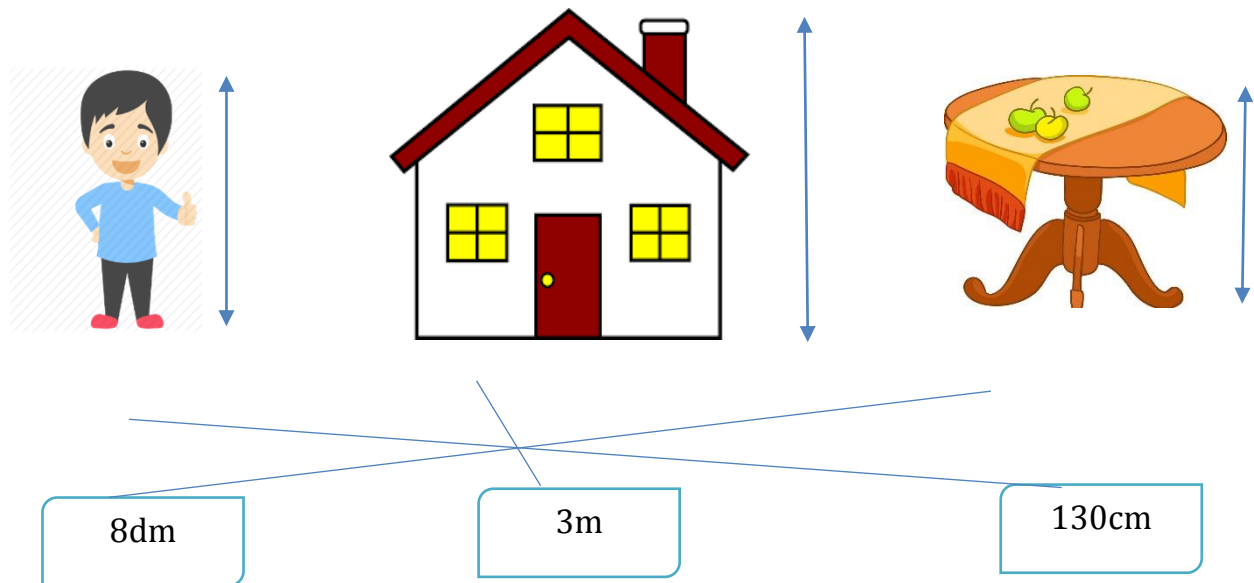
.....

## ĐÁP ÁN

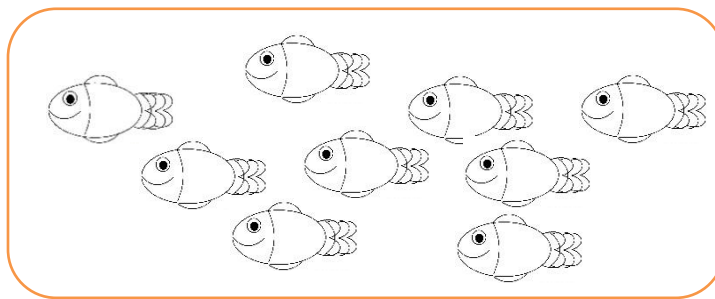
### I. TRẮC NGHIỆM:

1.D	3.C	5.D	7.D
2.B	4.C	6.A	8.C

9. Nối cho thích hợp:



10. Tô màu  $\frac{1}{3}$  số con cá: (Tô màu 3 con bất kì)



### II. TỰ LUẬN:

Bài 1. a. 384      b. 247

Bài 2: a. =  $588 - 99 = 489$

Bài 3.  $x = 42 : 6$

$$x = 7$$

c. 288

d. 7

$$b. = 207 + 15 = 222$$

$$x = 24 : 4$$

$$x = 6$$

Bài 4:

Bài giải

Đoạn dây thứ hai dài là:

$$18 \times 6 = 108 \text{ (dm)}$$

Đáp số: 108dm