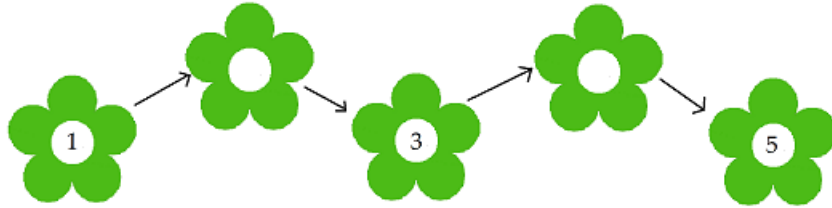


Bài kiểm tra giữa học kì 1 môn Toán lớp 1 – Đề số 1

Bài 1 (1 điểm) Số?



Bài 2 (2 điểm) Tính:

$$2 + 3 = \dots$$

$$1 + 2 = \dots$$

$$4 + 1 = \dots$$

$$3 + 0 = \dots$$

$$1 + 3 = \dots$$

$$1 + 1 = \dots$$

Bài 3 (2 điểm) Điền dấu $<$, $>$, $=$ vào chỗ chấm:

$$1 + 2 \dots 2 + 1$$

$$5 \dots 1 + 3$$

$$4 \dots 1 + 1$$

$$2 + 2 \dots 5$$

$$3 \dots 1 + 2$$


$$2 + 0 \dots 2 + 1$$

Bài 4 (2 điểm) Viết các số 2, 5, 1, 8, 3:

a) Theo thứ tự từ bé đến lớn:

b) Theo thứ tự từ lớn đến bé:


Bài 5 (1 điểm) Viết phép tính thích hợp:



| | | | | |
|--|--|--|--|--|
| | | | | |
|--|--|--|--|--|

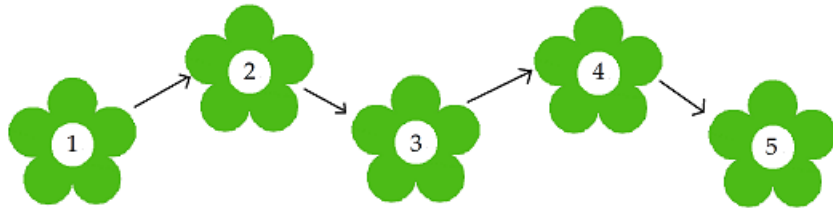
Bài 6 (2 điểm)

Hình vẽ dưới đây có ...hình tam giác. Hình vẽ dưới đây có ...hình tròn.



Đáp án đề số 1

Bài 1:



Bài 2:

$$2 + 3 = 5$$

$$1 + 2 = 3$$

$$4 + 1 = 5$$

$$3 + 0 = 3$$

$$1 + 3 = 4$$

$$1 + 1 = 2$$

Bài 3:

$$1 + 2 = 2 + 1$$

$$5 > 1 + 3$$

$$4 > 1 + 1$$

$$2 + 2 < 5$$

$$3 = 1 + 2$$

$$2 + 0 < 2 + 1$$

Bài 4:

a) Theo thứ tự từ bé đến lớn: 1, 2, 3, 5, 8

b) Theo thứ tự từ lớn đến bé: 8, 5, 3, 2, 1

Bài 5:

| | | | | |
|---|---|---|---|---|
| 1 | + | 4 | = | 5 |
|---|---|---|---|---|

Bài 6: Hình vẽ dưới đây có 6 hình tam giác. Hình vẽ dưới đây có 8 hình tròn.