

## BÀI KIỂM TRA GIỮA HỌC KÌ I - ĐỀ SỐ 2

### I. Trắc nghiệm: Khoanh tròn vào chữ cái đặt trước câu trả lời đúng

1. Số có ba chữ số lớn nhất là:

- A. 100                      B. 989                      C. 900                      D. 999

2.  $418 + 201 = \dots$  Số cần điền vào chỗ chấm là:

- A. 729                      B. 619                      C. 719                      D. 629

3.  $627 - 143 = \dots$  Số cần điền vào chỗ chấm là:

- A. 474                      B. 374                      C. 574                      D. 484

4. Điền dấu thích hợp vào ô trống:  $6 \times 6 \dots\dots\dots 30 + 5$ .

- A. <                      B. =                      C. >

5.  $\frac{1}{5}$  của 35m là ..... là bao nhiêu?

- A. 6m                      B. 7m                      C. 8m                      D. 9m

6. 42 giờ giảm đi 6 lần còn bao nhiêu giờ?

- A. 7 giờ                      B. 8 giờ                      C. 9 giờ                      D. 10 giờ

7.  $3m4cm = \dots\dots\dots cm$ . Số cần điền vào chỗ chấm là :

- A. 34                      B. 304                      C. 340                      D. 7

8. Mỗi tuần lễ có 7 ngày. Hỏi 4 tuần lễ có bao nhiêu ngày ?


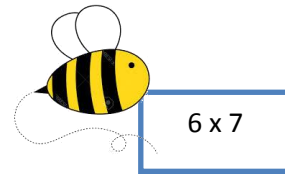
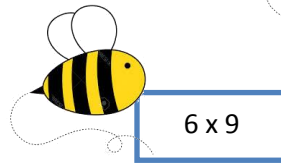
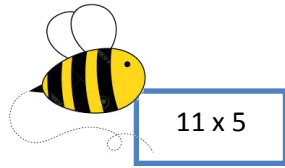
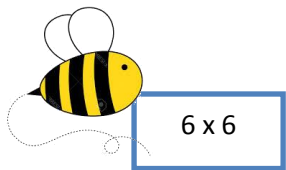
- A. 11 ngày                      B. 21 ngày                      C. 24 ngày                      D. 28 ngày

9. Mẹ có đĩa bánh như hình, mẹ chia đều cho hai anh em, hỏi mỗi anh em được mấy chiếc bánh?



- A. 2 chiếc                      B. 4 chiếc                      C. 6 chiếc                      D. 7 chiếc

10. Nối phép tính với kết quả:



**Bài 1:** Đặt tính rồi tính

$$452 + 361$$

$$541 - 127$$

$$54 \times 6$$

$$24 : 6$$

.....

.....

.....

.....

.....

**Bài 2:** Tính

$$5 \times 7 + 27$$

$$80 : 2 - 13$$

.....

.....

.....

**Bài 3:** Tìm X

$$X \times 4 = 32$$

$$X : 6 = 12 + 10$$

.....

.....

.....

**Bài 4:** Một cửa hàng có 40m vải xanh và đã bán được  $\frac{1}{5}$  số vải đó. Hỏi cửa hàng đó đã bán được bao nhiêu mét vải xanh?

.....

.....

.....

.....

## ĐÁP ÁN

### I. TRẮC NGHIỆM:

1.D	3.D	5.B	7.B	9B
2.B	4.C	6.A	8.D	

10. Nối phép tính với kết quả:

$6 \times 6$        $11 \times 5$        $6 \times 9$        $6 \times 7$        $7 \times 10$

55      42      54      70      36

### II. TỰ LUẬN:

**Bài 1:** Đặt tính rồi tính:

$$\begin{array}{r} 452 + 361 \\ = 813 \end{array}$$

$$\begin{array}{r} 541 - 127 \\ = 414 \end{array}$$

$$\begin{array}{r} 54 \times 6 \\ = 324 \end{array}$$

$$\begin{array}{r} 24 : 6 \\ = 4 \end{array}$$

**Bài 2:** Tính:

$$\begin{array}{r} 5 \times 7 + 27 \\ = 35 + 27 \\ = 62 \end{array}$$

$$\begin{array}{r} 80 : 2 - 13 \\ = 40 - 13 \\ = 27 \end{array}$$

**Bài 3:** Tìm X

$$\begin{array}{r} X \times 4 = 32 \\ x = 32 : 8 \\ X = 4 \end{array}$$

$$\begin{array}{r} X : 6 = 12 + 10 \\ X : 6 = 22 \\ X = 22 \times 6 \\ X = 132 \end{array}$$

**Bài 4:** Một cửa hàng có 40m vải xanh và đã bán được  $\frac{1}{5}$  số vải đó. Hỏi cửa hàng đó đã bán được bao nhiêu mét vải xanh?

**Bài giải:**

Cửa hàng đó đã bán được số vải xanh là:

$$40 : 5 = 8 \text{ (m)}$$

Đáp số: 8m vải

HavaMATH