

Bài kiểm tra giữa học kì 1 môn Toán lớp 1 – Đề số 3

Bài 1 (2 điểm) Viết các số 7, 5, 1, 8, 10:

a) Theo thứ tự từ bé đến lớn.

b) Theo thứ tự từ lớn đến bé.

Bài 2 (2 điểm) Tính:

$2 + 2 = \dots$

$1 + 3 = \dots$

$0 + 5 = \dots$

$1 + 4 = \dots$

$1 + 1 = \dots$

$2 + 3 = \dots$

Bài 3 (2 điểm) Điền dấu $<$, $>$, $=$ thích hợp vào chỗ chấm:

$2 \dots 3$

$4 \dots 5$



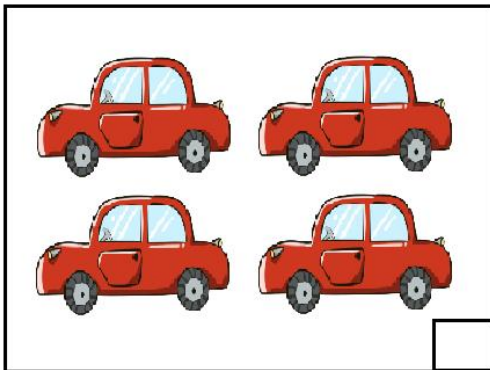
$3 \dots 1$

$1 + 0 \dots 0 + 1$


$2 + 1 \dots 3$

$5 + 0 \dots 4$

Bài 4 (1 điểm) Điền số thích hợp vào ô trống:



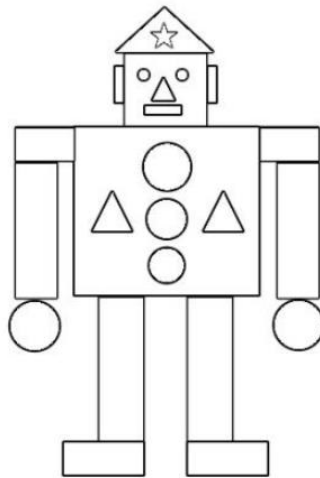
Bài 5 (1 điểm) Viết phép tính thích hợp:



--	--	--	--	--

Bài 6 (2 điểm) Số?

Hình vẽ dưới đây có ...hình tam giác, có ...hình tròn.



Đáp án đề số 3

Bài 1:

a) Theo thứ tự từ bé đến lớn: 1, 5, 7, 8, 10.

b) Theo thứ tự từ lớn đến bé: 10, 8, 7, 5, 1.

Bài 2:

$$2 + 2 = 4$$

$$1 + 3 = 4$$

$$0 + 5 = 5$$

$$1 + 4 = 5$$

$$1 + 1 = 2$$

$$2 + 3 = 5$$

Bài 3:

$$2 < 3$$

$$4 < 5$$


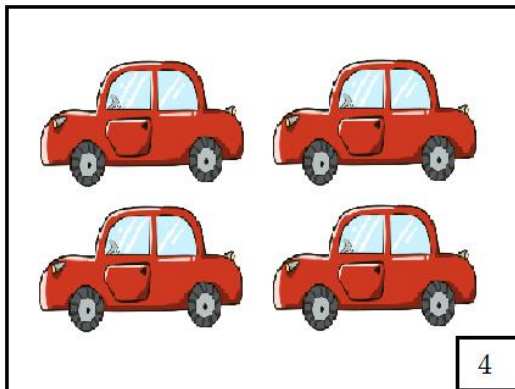
$$3 > 1$$



$$1 + 0 = 0 + 1$$

$$2 + 1 = 3$$

$$5 + 0 > 4$$

Bài 4:





Bài 5:

3	+	0	=	3
---	---	---	---	---

Bài 6:

Hình vẽ dưới đây có 4 hình tam giác, có 5 hình tròn.