

BÀI KIỂM TRA HỌC KỲ II

ĐỀ 3

Bài 1.

a. Viết thành các số

Năm mươi tư: ; Mười:

Bảy mươi mốt: ; Một trăm:

b. Khoanh tròn số bé nhất: 54 ; 29 ; 45 ; 37

c. Viết các số 62; 81; 38; 73 theo thứ tự từ lớn đến bé:

.....

Bài 2.

a. Nối số với phép tính thích hợp

70

50

30

10

92 - 22

78 - 48

40 + 10

25 - 15

b. Đặt tính rồi tính

3 + 63

99 - 48

54 + 45

65 - 23

.....

.....

.....

c. Tính

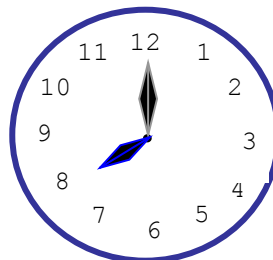
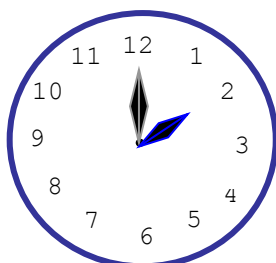
27 + 12 - 4 =

; 38 - 32 + 32 =

25cm + 14cm =

; 56cm - 6cm + 7cm =

Bài 3. Đồng hồ chỉ mấy giờ?



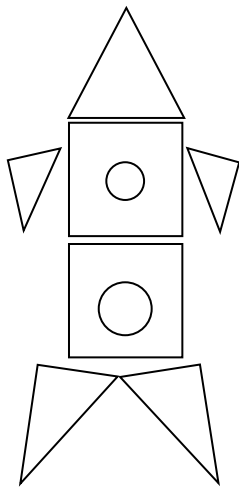
Đồng hồ chỉ ... giờ

Đồng hồ chỉ ... giờ

Bài 4. Viết $<$, $>$, $=$

$27 \dots\dots\dots 31$;	$99 \dots\dots\dots 100$
$94 - 4 \dots\dots\dots 80$;	$18 \dots\dots\dots 20 - 10$
$56 - 14 \dots\dots\dots 46 - 14$;	$25 + 41 \dots\dots\dots 41 + 25$

Bài 5.



Hình vẽ bên có: hình tam giác
..... hình vuông
..... hình tròn

Bài 6. Lớp em có 24 học sinh nữ và 21 học sinh nam. Hỏi lớp em có tất cả bao nhiêu học sinh?

Bài giải

.....
.....
.....

GỢI Ý/ HƯỚNG DẪN GIẢI

ĐỀ 3

Bài 1.

a. Viết thành các số

Năm mươi tư:54..... ; Mười:10.....

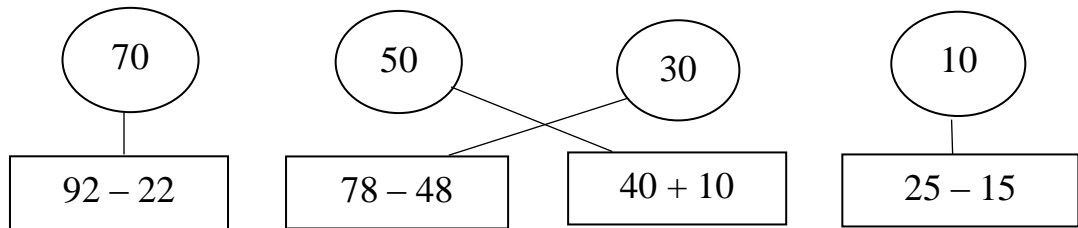
Bảy mươi mốt:71..... ; Một trăm:100.....

b. Khoanh tròn số bé nhất: 54 ; **29** ; 45 ; 37

c. Viết các số 62; 81; 38; 73 theo thứ tự từ lớn đến bé: 81; 73; 62; 38

Bài 2.

a. Nối số với phép tính thích hợp



b. Đặt tính rồi tính

$$3 + 63 = 66$$

$$99 - 48 = 51$$

$$54 + 45 = 99$$

$$65 - 23 = 42$$

c. Tính

$$27 + 12 - 4 = \dots 35 \dots$$

$$; 38 - 32 + 32 = \dots 38 \dots$$

$$25\text{cm} + 14\text{cm} = \dots 39 \text{cm} \dots$$

$$; 56\text{cm} - 6\text{cm} + 7\text{cm} = \dots 57 \text{cm} \dots$$

Bài 3. Đồng hồ chỉ mấy giờ?



Đồng hồ chỉ 2 giờ



Đồng hồ chỉ 8 giờ

Bài 4. Viết <, >, =

$27 \dots\dots < \dots\dots 31$

$99 \dots\dots < \dots\dots 100$

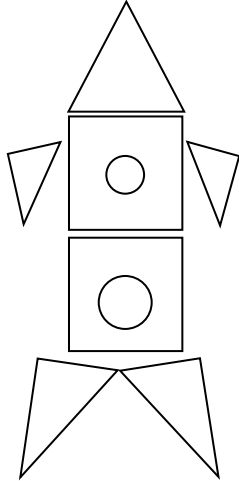
$94 - 4 \dots\dots > \dots\dots 80$

$18 \dots\dots > \dots\dots 20 - 10$

$56 - 14 \dots\dots > \dots\dots 46 - 14$

$25 + 41 \dots\dots = \dots\dots 41 + 25$

Bài 5.



Hình vẽ bên có:⁵ hình tam giác

.....² hình vuông

.....² hình tròn

Bài 6. Lớp em có 24 học sinh nữ và 21 học sinh nam. Hỏi lớp em có tất cả bao nhiêu học sinh?

Giải

Lớp em có tất cả số học sinh là:

$$24 + 21 = 45 \text{ (học sinh)}$$

Đáp số: 45 học sinh