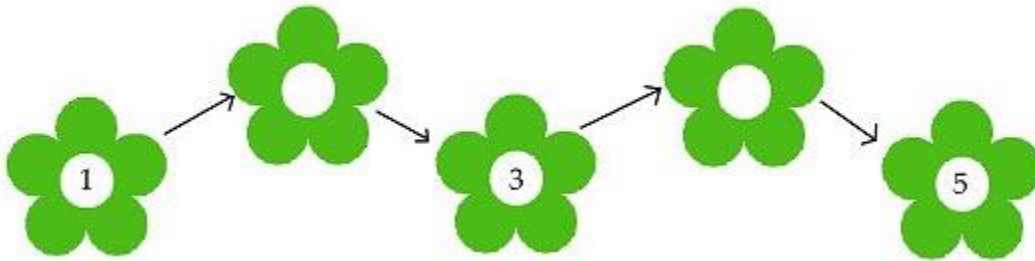


Bài 1 (1 điểm) Số?



Bài 2 (2 điểm) Tính:

$2 + 3 = \dots$	$1 + 2 = \dots$	$4 + 1 = \dots$
$3 + 0 = \dots$	$1 + 3 = \dots$	$1 + 1 = \dots$

Bài 3 (2 điểm) Điền dấu $<$, $>$, $=$ vào chỗ chấm:


$1 + 2 \dots 2 + 1$	$5 \dots 1 + 3$	$4 \dots 1 + 1$
$2 + 2 \dots 5$	$3 \dots 1 + 2$	$2 + 0 \dots 2 + 1$

Bài 4 (2 điểm) Viết các số 2, 5, 1, 8, 3:

a) Theo thứ tự từ bé đến lớn.

b) Theo thứ tự từ lớn đến bé.


Bài 5 (1 điểm) Viết phép tính thích hợp:



--	--	--	--	--

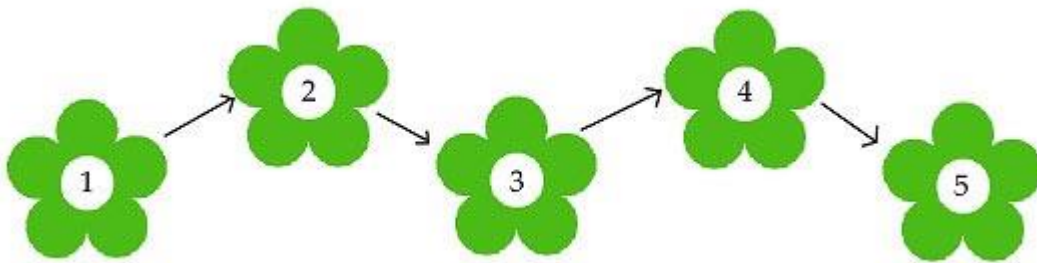
Bài 6 (2 điểm)

Hình vẽ dưới đây cóhình tam giác. Hình vẽ dưới đây có ...hình tròn.



Đáp án đề giữa kì 1 môn Toán lớp 1 - Đề 1

Bài 1:



Bài 2:

$2 + 3 = 5$	$1 + 2 = 3$	$4 + 1 = 5$
$3 + 0 = 3$	$1 + 3 = 4$	$1 + 1 = 2$

Bài 3:

$1 + 2 = 2 + 1$	$5 > 1 + 3$	$4 > 1 + 1$
$2 + 2 < 5$	$3 = 1 + 2$	$2 + 0 < 2 + 1$

Bài 4:

a) Theo thứ tự từ bé đến lớn: 1, 2, 3, 5, 8

b) Theo thứ tự từ lớn đến bé: 8, 5, 3, 2, 1

Bài 5:

1	+	4	=	5
---	---	---	---	---