


BÀI KIỂM TRA HỌC KỲ I

ĐỀ 4.

Bài 1. Viết phép tính thích hợp vào ô trống:



--	--	--	--	--

Bài 2. Viết phép tính thích hợp vào ô trống:

Có: 6 quả trứng

Ăn: 2 quả trứng

Còn lại: ..... quả trứng

--	--	--	--	--

Bài 3. Viết các số: 2; 8; 5; 9

a. Theo thứ tự từ bé đến lớn: .....

b. Theo thứ tự từ lớn đến bé: .....

Bài 4. Tính


$5 + \square = 9$

$10 - \square = 2$

$\square + 5 = 8$

$\square - 3 = 4$

Bài 5. Trong hình dưới đây có ..... hình vuông.



Bài 6. Điền dấu >; <; =

# HavaMATH

a.  $9 - 3 \dots\dots\dots 5$

b.  $1 - 1 \dots\dots\dots 0$

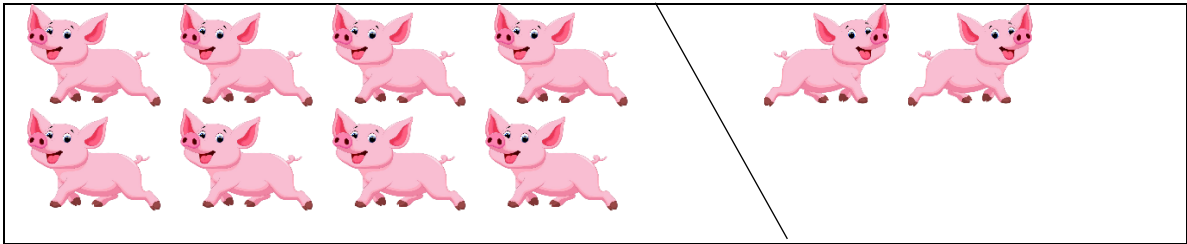
c.  $9 + 0 \dots\dots\dots 0 + 10$

d.  $2 + 3 \dots\dots\dots 6$

## GỢI Ý/ HƯỚNG DẪN GIẢI

### ĐỀ 4

**Bài 1.** Viết phép tính thích hợp vào ô trống



8	-	2	=	6
---	---	---	---	---

**Bài 2.** Viết phép tính thích hợp vào ô trống

Có: 6 quả trứng

Ăn: 2 quả trứng

Còn lại: ..... quả trứng

6	-	2	=	4
---	---	---	---	---

**Bài 3.** Viết các số: 2; 8; 5; 9

a. Theo thứ tự từ bé đến lớn: 2; 5; 8; 9

b. Theo thứ tự từ lớn đến bé: 9; 8; 5; 2

**Bài 4.** Tính


$$5 + \boxed{4} = 9$$

$$10 - \boxed{8} = 2$$

$$\boxed{3} + 5 = 8$$

$$\boxed{7} - 3 = 4$$

**Bài 5.** Trong hình dưới đây có 5 hình vuông.



**Bài 6.** Điền dấu >, <, =

a.  $9 - 3 > 5$



b.  $1 - 1 = 0$

c.  $9 + 0 < 0 + 10$

d.  $2 + 3 < 6$