

BÀI KIỂM TRA HỌC KỲ II

ĐỀ 4

Bài 1. Nối

103
721
500
575

Một trăm linh ba
Năm trăm bảy mươi lăm
Bảy trăm hai mươi một
Năm trăm

Bài 2. Viết các số sau theo thứ tự từ lớn đến bé: 578; 317; 371; 806; 878; 901; 234; 156

.....

Bài 3. Điền số thích hợp vào chỗ chấm

a) $400\text{cm} + 100\text{cm} = \dots\dots \text{cm} = \dots\dots \text{m}$

b) $\dots\dots \text{dm} = 90\text{cm}$

c) $80\text{mm} - 50\text{mm} = \dots\dots \text{mm} = \dots\dots \text{cm}$

d) $\dots\dots \text{cm} = 70\text{mm}$

Bài 4. Đặt tính rồi tính

$432 + 367$

$958 - 452$

$632 + 144$

$676 - 153$

.....

.....

.....

Bài 5. Thực hiện phép tính:

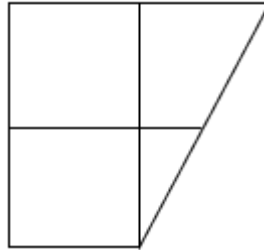
a. $5 \times 10 + 200 =$

b. $40 : 5 + 79 =$

c. $270 - 5 \times 5 =$

.....

.....
.....
Bài 6. Điền số thích hợp vào chỗ chấm:



- Hình vẽ bên có hình tam giác.
- Hình vẽ bên có hình vuông.

Bài 7. Một đội đồng diễn thể dục xếp 4 hàng, mỗi hàng 9 bạn. Hỏi đội đồng diễn thể dục có bao nhiêu bạn?

Bài giải

.....
.....
.....

Bài 8. Quãng đường từ Hà Nội đến Nghệ An dài khoảng 309km. Quãng đường từ Nghệ An đến Huế dài khoảng 367km. Hỏi quãng đường từ Nghệ An đến Huế dài hơn quãng đường từ Hà Nội đến Nghệ An bao nhiêu ki-lô-mét?

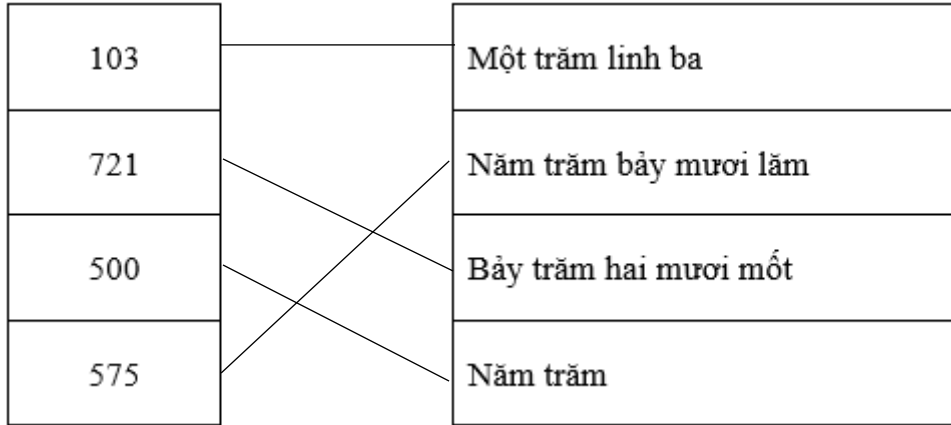
Bài giải

.....
.....
.....
.....

GỢI Ý/ HƯỚNG DẪN GIẢI

ĐỀ 4

Bài 1. Nối



Bài 2. Viết các số sau theo thứ tự từ lớn đến bé: 578; 317; 371; 806; 878; 901; 234; 156

..... 901; 878; 806; 578; 371; 317; 234; 156

Bài 3. Điền số thích hợp vào chỗ chấm

a. $400\text{cm} + 100\text{cm} = \dots 500 \dots \text{cm} = \dots 5 \dots \text{m}$

b. $\dots 9 \dots \text{dm} = 90\text{cm}$

c. $80\text{mm} - 50\text{mm} = \dots 30 \dots \text{mm} = \dots 3 \dots \text{cm}$

d. $\dots 7 \dots \text{cm} = 70\text{mm}$

Bài 4. Đặt tính rồi tính:

$$432 + 367 = 799$$

$$958 - 452 = 506$$

$$632 + 144 = 776$$

$$676 - 153 = 523$$

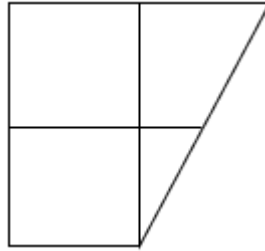
Bài 5. Thực hiện phép tính:

a. $5 \times 10 + 200 = 250$

b. $40 : 5 + 79 = 87$

c. $270 - 5 \times 5 = 245$

Bài 6. Điền số thích hợp vào chỗ chấm:



- Hình vẽ bên có ...²... hình tam giác.

- Hình vẽ bên có ...²... hình vuông.

Bài 7. Một đội đồng diễn thể dục xếp 4 hàng, mỗi hàng 9 bạn. Hỏi đội đồng diễn thể dục có bao nhiêu bạn?

Bài giải

Đội đồng diễn thể dục có số bạn là:

$$4 \times 9 = 36 \text{ (bạn)}$$

Đáp số: 36 bạn

Bài 7. Quãng đường từ Hà Nội đến Nghệ An dài khoảng 309km. Quãng đường từ Nghệ An đến Huế dài khoảng 367km. Hỏi quãng đường từ Nghệ An đến Huế dài hơn quãng đường từ Hà Nội đến Nghệ An bao nhiêu ki-lô-mét?

Bài giải

Quãng đường từ Nghệ An đến Huế dài hơn quãng đường từ Hà Nội đến Nghệ An là:

$$367 - 309 = 58 \text{ (km)}$$

Đáp số: 58 km