

## BÀI KIỂM TRA GIỮA KÌ I - ĐỀ SỐ 4

### I. Trắc nghiệm: Khoanh tròn vào chữ cái đặt trước câu trả lời đúng

1. Kết quả của phép tính cộng:  $475 + 317$  là:

- A. 792                      B. 782                      C. 783                      D. 793

2. Kết quả của phép tính trừ:  $645 - 127$  là:

- A. 528                      B. 518                      C. 522                      D. 525

3.  $\frac{1}{2}$  của 40m là:

- A. 20                      B. 80m                      C. 2dam                      D. 20dm

4. 1hm = ....m. Đáp án thích hợp để điền vào chỗ chấm là:

- A. 100m                      B. 100                      C. 1000                      D. 1 m

5. 9 giờ 45 phút còn được gọi là:

- A. 10 giờ kém 15 phút                      B. 10 giờ kém 10 phút.

- C. 9 giờ kém 15 phút                      D. 21 giờ 15 phút

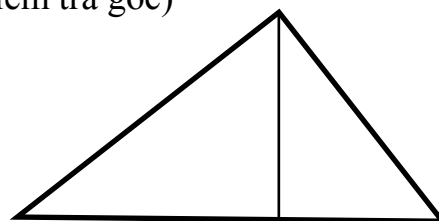
6. Số góc vuông có trong hình bên là: (dùng ê ke để kiểm tra góc)

A. 4 góc

B. 3 góc

C. 2 góc

D. 1 góc




7. 45 giảm 3 lần được bao nhiêu?

- A. 42                      B. 48                      C. 15                      D. 135

8.  $\frac{1}{2}$  hm = .....m?

- A. 100                      B. 10                      C. 5                      D. 50

9. Có số con thỏ như hình vẽ, điền vào chỗ chấm cho thích hợp:




- Nếu xếp vào 3 chuồng, mỗi chuồng có .....con.

- Nếu xếp vào ..... chuồng, mỗi chuồng có 6 con.

- Nếu xếp vào ..... chuồng, mỗi chuồng có 2 con.

10. Hãy vẽ thêm số thỏ để có thể xếp số thỏ đó vào 3 chuồng, mỗi chuồng có 5 con.



## PHẦN II : TỰ LUẬN

### Bài 1: Đặt tính rồi tính

$26 \times 5$

$60 \times 7$

$84 : 2$

$66 : 3$

.....

.....

.....

.....

## Bài 2: Đổi các đơn vị đo sau

$5\text{dam} = \dots\dots\text{dm}$

$1\text{dam } 1\text{m} = \dots\dots\text{m}$

$220\text{cm} = \dots\dots \text{dm}$

$505\text{cm} = \dots\dots\text{m } \dots\dots\text{cm}$

## Bài 3: Tính

$7 \times 3 + 12$

$54 : 6 + 25$

.....  
.....  
.....

**Bài 4:** Em hái được 7 quả cam, chị hái được gấp 3 lần số cam của em. Hỏi chị hái được bao nhiêu quả cam ?


.....  
.....  
.....  
.....

## ĐÁP ÁN

### I. TRẮC NGHIỆM:


|     |     |     |     |
|-----|-----|-----|-----|
| 1.A | 3.C | 5.A | 7.C |
| 2.B | 4.B | 6.B | 8.D |

9. Có số con thỏ như hình vẽ, điền vào chỗ chấm cho thích hợp:



- Nếu xếp vào 3 chuồng, mỗi chuồng có 4.con.
- Nếu xếp vào 2 chuồng, mỗi chuồng có 6 con.
- Nếu xếp vào 6 chuồng, mỗi chuồng có 2 con.

10. Hãy vẽ thêm số thỏ để có thể xếp số thỏ đó vào 3 chuồng, mỗi chuồng có 5 con.



### II. TỰ LUẬN

#### Bài 1: Đặt tính rồi tính

$$\begin{array}{r} 26 \times 5 \\ = 130 \end{array}$$

$$\begin{array}{r} 60 \times 7 \\ = 420 \end{array}$$

$$\begin{array}{r} 84 : 2 \\ = 42 \end{array}$$

$$\begin{array}{r} 66 : 3 \\ = 22 \end{array}$$

#### Bài 2: Đổi các đơn vị đo sau:

$$5\text{dam} = 500\text{dm}$$

$$220\text{cm} = 22\text{dm}$$

$$1\text{dam} \ 1\text{m} = 11\text{m}$$

$$505\text{cm} = 5\text{m} \ 5\text{cm}$$

#### Bài 3: Tính

$$\begin{array}{r} 7 \times 3 + 12 \\ = 21 + 12 \\ = 33 \end{array}$$

$$\begin{array}{r} 54 : 6 + 25 \\ = 9 + 25 \\ = 34 \end{array}$$

#### Bài 4:



Bài giải:

Chị hái được số quả cam là:

$$7 \times 3 = 21 \text{ (quả)}$$

Đáp số: 21 quả cam