

BÀI KIỂM TRA HỌC KỲ II

ĐỀ 4

Bài 1. Tính

$31 + 14 = \dots\dots\dots$

$36 - 21 = \dots\dots\dots$

$87 + 12 = \dots\dots\dots$

$14 + 31 = \dots\dots\dots$

$36 - 15 = \dots\dots\dots$

$87 - 12 = \dots\dots\dots$

$62 + 3 = \dots\dots\dots$

$55 - 2 = \dots\dots\dots$

$90 + 8 = \dots\dots\dots$

Bài 2. Viết số thích hợp vào chỗ chấm

$50 + \dots = 50$

$49 - \dots = 40$

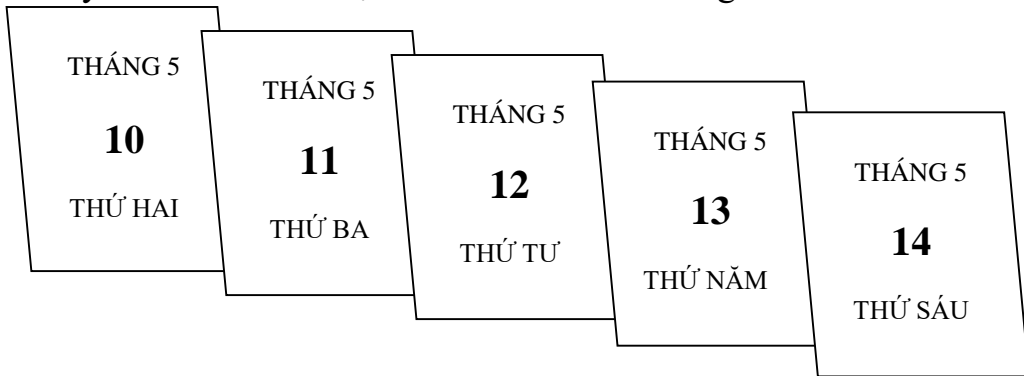
$49 - \dots = 9$

$\dots + \dots = 40$

$75 = \dots + \dots$

$60 - \dots > 40$

Bài 3. Em hãy nhìn vào các tờ lịch và điền vào chỗ trống:



a.

Nếu hôm nay là thứ tư thì: Ngày hôm qua là thứ.....

Ngày mai là thứ

Ngày hôm kia là thứ

Ngày kia là thứ

b.

Thứ năm, ngày, tháng

Thứ, ngày 11, tháng

Bài 4. Kì nghỉ hè, Lan về quê thăm ông bà hết 1 tuần lễ và 3 ngày. Hỏi Lan đã ở quê tất cả bao nhiêu ngày ?

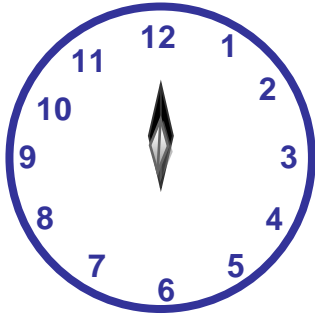
Bài giải.

.....


.....

Bài 5. Vẽ đoạn thẳng AB có độ dài là 10 cm

Bài 6: Đồng hồ chỉ mấy giờ?



..... giờ



..... giờ

GỢI Ý/ HƯỚNG DẪN GIẢI

ĐỀ 4

Bài 1: Tính

$31 + 14 = \dots 45 \dots \quad 36 - 21 = \dots 15 \dots \quad 87 + 12 = \dots 99 \dots$

$14 + 31 = \dots 45 \dots \quad 36 - 15 = \dots 21 \dots \quad 87 - 12 = \dots 75 \dots$

$62 + 3 = \dots 65 \dots \quad 55 - 2 = \dots 53 \dots \quad 90 + 8 = \dots 98 \dots$

Bài 2. Viết số thích hợp vào chỗ chấm

$50 + \dots 0 \dots = 50$

$49 - \dots 9 \dots = 40$

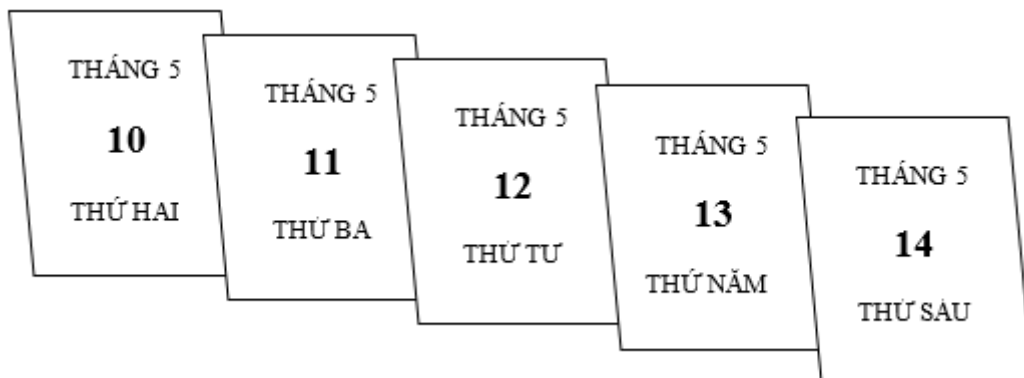
$49 - 40 = 9$

$10 + 30 \dots = 40$

$75 = \dots 70 \dots + \dots 5 \dots$

$60 - 10 \dots > 40$

Bài 3. Em hãy nhìn vào các tờ lịch và điền vào chỗ trống



a) Nếu hôm nay là thứ tư thì: Ngày hôm qua là thứ^{ba}.....

Ngày mai là thứ^{năm}.....

Ngày hôm kia là thứ^{hai}.....

Ngày kia là thứ^{sáu}.....

b) Thứ^{năm}....., ngày¹³....., tháng⁵.....

Thứ^{ba}....., ngày 11, tháng⁵.....

Bài 4. Kỳ nghỉ hè, Lan về quê thăm ông bà hết 1 tuần lễ và 3 ngày. Hỏi Lan đã ở quê tất cả bao nhiêu ngày ?

Bài giải

Đổi : 1 tuần = 7 ngày

Lan đã ở quê tất cả số ngày là:

$$7 + 3 = 10 \text{ (ngày)}$$

Đáp số: 10 ngày

Bài 5. Vẽ đoạn thẳng AB có độ dài là 10 cm

(Dùng thước chia vạch cm)

Bài 6: Đồng hồ chỉ mấy giờ?



Đồng hồ chỉ 6 giờ.



Đồng hồ chỉ 10 giờ.