

BÀI KIỂM TRA HỌC KỲ II

ĐỀ 5

Bài 1.

a. Viết số:

Ba mươi chín:

Sáu mươi hai:

Năm mươi lăm:

Bốn mươi tám:

Tám mươi tám:

Chín mươi bảy:

b. Viết các số : 25 , 58 , 72 , 36 , 90 , 54 theo thứ tự :

- Từ lớn đến bé:

- Từ bé đến lớn:

c.

Số liền trước	Số đã biết	Số liền sau
	40	
	75	
	99	

Bài 2.

a. Tính nhẩm

$15 + 4 - 8 = \dots\dots\dots$

$80 \text{ cm} - 50 \text{ cm} = \dots\dots\dots$

$18 - 6 + 3 = \dots\dots\dots$

$40 \text{ cm} + 20 \text{ cm} = \dots\dots\dots$

b. Đặt tính và tính

$35 + 12$

$85 - 43$

$60 + 15$

$78 - 38$

.....

.....

.....

.....

Bài 3. Điền dấu: <, >, = vào chỗ chấm

$19 - 4 \dots\dots\dots 25$

$30 + 40 \dots\dots\dots 60 + 20$

$40 + 15 \dots\dots\dots 58$

$42 + 5 \dots\dots\dots 58 - 8$

Bài 4.

Đàn gà nhà em có 35 con gà mái và 12 con gà trống. Hỏi đàn gà nhà em có tất cả bao nhiêu con?

Bài giải

.....

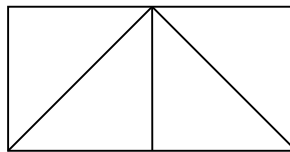
.....

.....

Bài 5. Hình bên có:

..... hình vuông

..... hình tam giác



Bài 6. Khoanh vào chữ đặt trước câu trả lời đúng

a. Số 62 gồm:

A. 60 chục và 2 đơn vị

B. 6 chục và 2 đơn vị

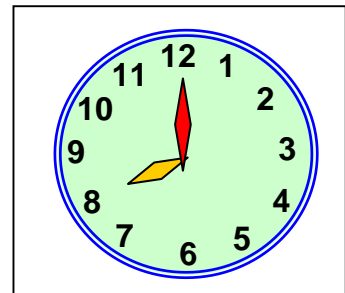
C. 2 chục và 6 đơn vị

b. Đồng hồ chỉ:

A. 12 giờ

B. 10 giờ

C. 8 giờ



GỢI Ý/ HƯỚNG DẪN GIẢI

ĐỀ 5

Bài 1.

a. Viết số:

Ba mươi chín:39..

Sáu mươi hai:62....

Năm mươi lăm: ..55...

Bốn mươi tám:48.....

Tám mươi tám: ..88...

Chín mươi bảy:97.....

b. Viết các số: 25 , 58 , 72 , 36 , 90 , 54 theo thứ tự :

- Từ lớn đến bé: 90; 72; 58; 54; 36; 25

- Từ bé đến lớn: 25; 36; 54; 58; 72; 90

c.

Số liền trước	Số đã biết	Số liền sau
39	40	41
74	75	76
98	99	100

Bài 2

a. Tính nhẩm

$$15 + 4 - 8 = \dots \underline{11} \dots$$

$$80 \text{ cm} - 50 \text{ cm} = \dots \underline{30} \text{ cm} \dots$$

$$18 - 6 + 3 = \dots \underline{15} \dots$$

$$40 \text{ cm} + 20 \text{ cm} = \dots \underline{60} \text{ cm} \dots$$

b. Đặt tính và tính

$$35 + 12 = 47$$

$$85 - 43 = 42$$

$$60 + 15 = 65$$

$$78 - 38 = 40$$

Bài 3: Điền dấu: < ; > ; = vào chỗ chấm

$$19 - 4 \dots \underline{=} \dots 15$$

$$40 + 40 \dots \underline{>} \dots 30 + 40$$

$40 + 15 \dots \leq \dots 58$

$42 + 5 \dots \leq \dots 58 - 8$

Bài 4:

Đàn gà nhà em có 35 con gà mái và 12 con gà trống. Hỏi đàn gà nhà em có tất cả bao nhiêu con?

Bài giải

Đàn gà nhà em có tất cả số con gà là:

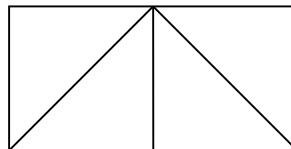
$$35 + 12 = 47 \text{ (con gà)}$$

Đáp số: 47 con gà

Bài 5: Hình bên có:

.....2... hình vuông

.....5..... hình tam giác



Bài 6: Khoanh vào chữ đặt trước câu trả lời đúng

a. Số 62 gồm:

A. 60 chục và 2 đơn vị

B. 6 chục và 2 đơn vị

C. 2 chục và 6 đơn vị

b. Đồng hồ chỉ

A. 12 giờ

B. 10 giờ

C. 8 giờ

