

## Bài kiểm tra giữa học kì 1 môn Toán lớp 1 – Đề số 5

**Bài 1** (2 điểm) Cho các số 7, 10, 4, 5, 1, 3; hãy sắp xếp các số theo thứ tự:

a) Từ bé đến lớn.

b) Từ lớn đến bé.

**Bài 2** (2 điểm) Điền dấu  $<$ ,  $>$ ,  $=$  thích hợp vào chỗ chấm:

$2 \dots 4$

$6 \dots 10$

$8 \dots 2$

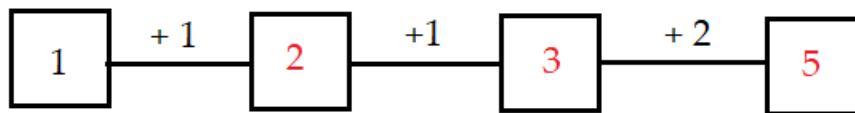
$1 + 2 \dots 0$

$2 + 3 \dots 1 + 4$

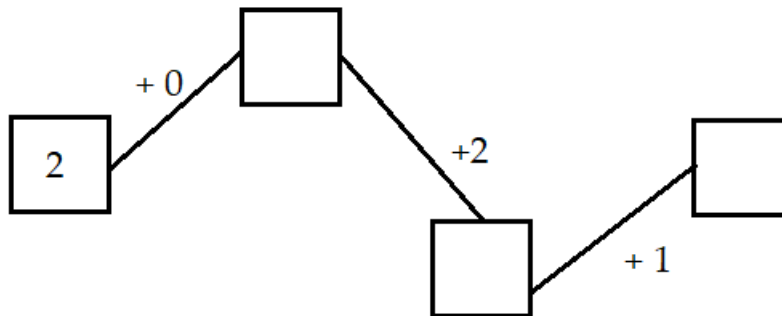
$3 + 0 \dots 1 + 2$

**Bài 3** (2 điểm) Viết số thích hợp vào ô trống (theo mẫu)


*Mẫu:*



*Bài toán:*



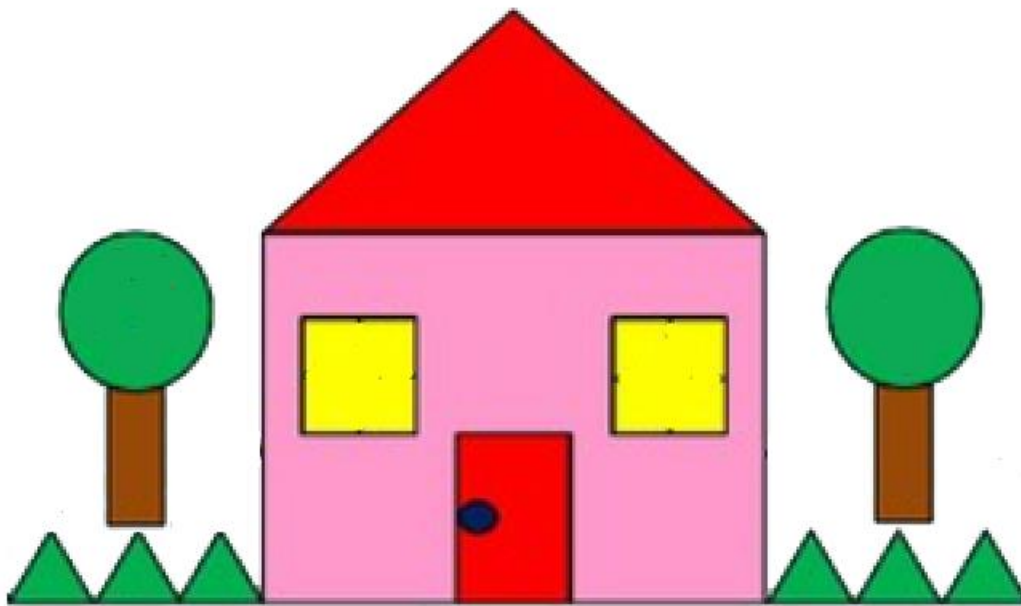
**Bài 4** (2 điểm) Điền số thích hợp vào chỗ chấm:



+ Trên hình vẽ có ....bút chì, ....quyển sách, ....thước kẻ, .....cặp sách, .....cục tẩy.

**Bài 5** (2 điểm) Điền số thích hợp vào chỗ chấm:

Hình vẽ dưới đây có ....hình tròn, ....hình chữ nhật, ....hình tam giác, ....hình vuông.



**Đáp án đề số 5**

**Bài 1:**

a) Theo thứ tự từ bé đến lớn: 1, 3, 4, 5, 7, 10.

b) Theo thứ tự từ lớn đến bé: 10, 7, 5, 4, 3, 1.

**Bài 2 (2 điểm) Tính:**

$2 < 4$

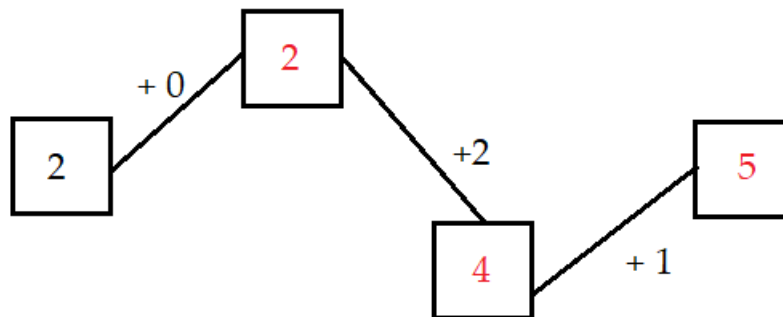
$6 < 10$

$8 > 2$

$1 + 2 > 0$

$2 + 3 = 1 + 4$

$3 + 0 = 1 + 2$

**Bài 3:****Bài 4:**

+ Trên hình vẽ có 2 bút chì, 6 quyển sách, 1 thước kẻ, 5 cặp sách, 3 cục tẩy.

**Bài 5:**

Hình có 3 hình tròn, 1 hình chữ nhật, 7 hình tam giác, 3 hình vuông.