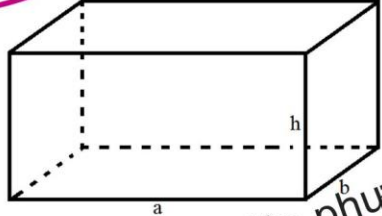




## HÌNH HỌC 5

### Hình hộp chữ nhật

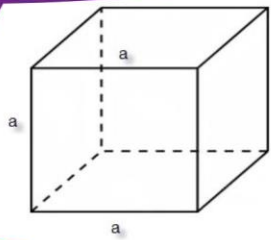


Diện tích xung quanh  
 $S_{xq} = (a + b) \times 2 \times h$

Diện tích toàn phần  
 $S_{tp} = (a + b) \times 2 \times h + 2 \times a \times b$

Thể tích  
 $V = a \times b \times h$

### Hình lập phương



Diện tích xung quanh  
 $S_{xq} = a \times a \times 4$

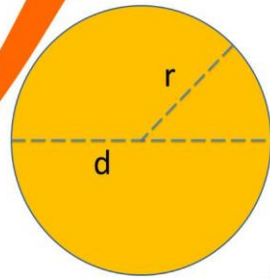
Diện tích toàn phần  
 $S_{tp} = a \times a \times 6$

Thể tích  
 $V = a \times a \times a$

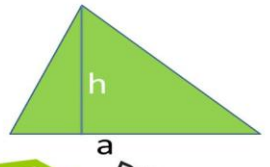
Chu vi :  $C = d \times 3,14$   
 $= r \times 2 \times 3,14$

Diện tích :  $S = r \times r \times 3,14$

### Hình tròn

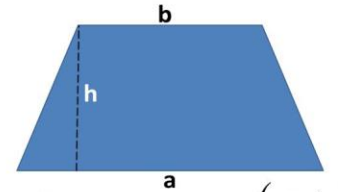


### Hình tam giác



Diện tích :  $S = a \times h : 2$

### Hình thang



Diện tích  $S = \frac{(a + b) \times h}{2}$

### Hình cầu, hình trụ



Hình cầu



Hình trụ

