


## PHIẾU BÀI TẬP CUỐI TUẦN 15 – LỚP 1

### Bài 1. Số?

$6 + 1 = \dots\dots\dots$      $3 + \dots\dots\dots = 8$      $4 + \dots\dots\dots = 9$      $2 + \dots\dots\dots = 10$

$7 - 1 = \dots\dots\dots$      $8 - \dots\dots\dots = 3$      $9 - \dots\dots\dots = 4$      $10 - \dots\dots\dots = 2$

### Bài 2. Số?




$6 + 2 = \dots\dots\dots$

$2 + 6 = \dots\dots\dots$

$8 - 2 = \dots\dots\dots$

$8 - 6 = \dots\dots\dots$






$3 + 7 = \dots\dots\dots$

$7 + 3 = \dots\dots\dots$

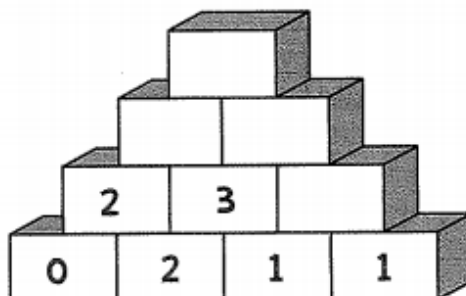
$10 - 3 = \dots\dots\dots$

$10 - 7 = \dots\dots\dots$

### Bài 3. Tô màu vào chú thỏ ghi phép tính có kết quả lớn nhất



### Bài 4. Số



## Bài 5. Số ?

