
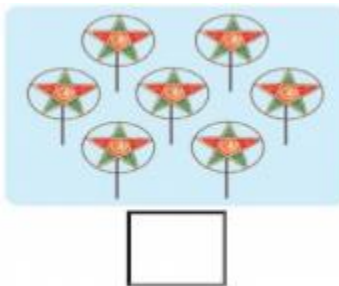






PHIẾU BÀI TẬP CUỐI TUẦN 18 – LỚP 1

Bài 1. Số?



Bài 2. Điền dấu >;<; =

4 5

9 3

$8 + 2$ 6

7 7

10 6

$9 - 1$ 10

Bài 3. Nối phép tính với kết quả đúng

	<input type="text" value="3"/>	<input type="text" value="2 + 2"/>	<input type="text" value="1 + 6"/>	
	<input type="text" value="2"/>	<input type="text" value="1 + 0"/>	<input type="text" value="9 - 1"/>	<input type="text" value="7"/>
	<input type="text" value="4"/>	<input type="text" value="7 - 5"/>	<input type="text" value="10 - 5"/>	<input type="text" value="6"/>
		<input type="text" value="1 + 2"/>	<input type="text" value="4 + 2"/>	<input type="text" value="5"/>

Bài 4. Hình bên có

..... hình vuông

..... hình tròn

..... hình tam giác

..... hình chữ nhật

