








## PHIẾU BÀI TẬP CUỐI TUẦN 2 - LỚP 1

**Bài 1.** Khoanh vào số hình thích hợp

4	
5	
6	
7	
8	
9	
0	

**Bài 2.** Số?

	1		3		5		7	8	
--	---	--	---	--	---	--	---	---	--

	8			5		3	2		
--	---	--	--	---	--	---	---	--	--

**Bài 3.** Số ?



5



**Bài 4.** Vẽ số bóng thích hợp (theo mẫu)

# HavaMATH

4



3



5



2



9



6



7



8

