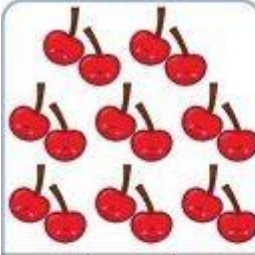
















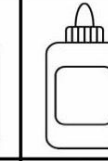
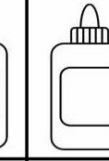




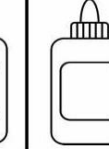


PHIẾU BÀI TẬP CUỐI TUẦN 20 – TOÁN 1

Bài 1. Khoanh vào số tương ứng với số lượng đồ vật trong các bức ảnh dưới đây:

					
16	18	20	13	14	15
					
13	12	14	15	14	16

Bài 2. Số ?

Bài 3. Số?

10	20	30						90
----	----	----	--	--	--	--	--	----

Bài 4. Viết số thích hợp vào ô trống.

