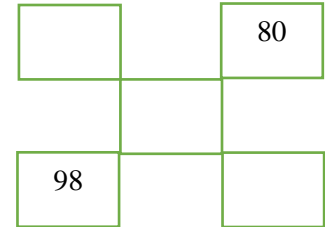
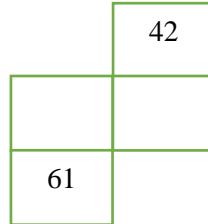
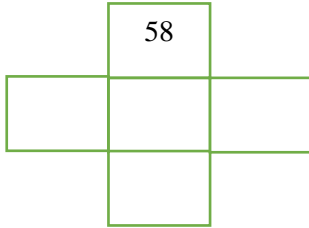


PHIẾU BÀI TẬP CUỐI TUẦN 22 – TOÁN 1

Bài 1. Quan sát Bảng các số từ 1 đến 100, viết số thích hợp vào ô trống:



Bài 2: Viết số thích hợp vào chỗ chấm:

a. Số 17 gồm chục và đơn vị

Số 30 gồm chục và đơn vị

Số 66 gồm chục và đơn vị

Số 89 gồm chục và đơn vị

b. Số gồm 1 chục và 6 đơn vị là số

Số gồm 7 chục và 5 đơn vị là số

Số gồm 8 chục và 8 đơn vị là số

Số gồm 6 chục và 0 đơn vị là số

Bài 3. Vẽ theo yêu cầu dưới đây

<p>a. Vẽ vào ô trống dưới đây 2 chục quả trứng</p>	<p>b. Vẽ vào ô trống 4 chục ngôi sao</p>
----------------------------------------------------	------------------------------------------

Bài 4. Đánh số các trang sách còn trống cho thích hợp:



HavaMATH

