




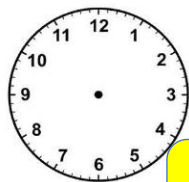


## PHIẾU BÀI TẬP TOÁN LỚP 3 TUẦN 24

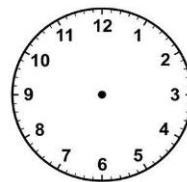
**Bài 1.** Hãy tô những bông hoa có chứa kết quả tương ứng với các màu dưới đây.



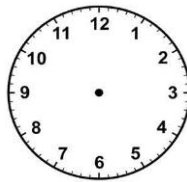
**Bài 2.** Hãy giúp bạn Thỏ Bông vẽ kim đồng hồ chính xác nhé.



Thỏ Bông dậy lúc  
6 giờ 5 phút sáng



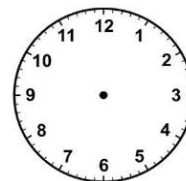
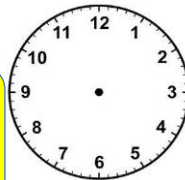
Thỏ Bông đi tắm  
lúc 6 giờ rưỡi



Thỏ Bông đánh răng  
lúc 7 giờ kém 15 phút



Thỏ Bông ăn sáng lúc  
7 giờ 30



8 giờ 20 phút sáng Thỏ  
Bông bắt đầu làm việc


**Bài 3.** Nối số La Mã với giá trị tương ứng.

XIX	VII	XII	XXI	XV	
21	13	7	19	25	15

**Bài 4.** Hãy sắp xếp các số La Mã theo thứ tự từ bé đến lớn.

III	XXV	IX	XX	XI	VI					
....	→	....	→	....	→	....	→	....	→	....

**Bài 5.** Nàng Bạch Tuyết phải chạy trốn khỏi mẹ phù thủy tới 1 khu rừng, biết quãng đường từ Cung điện tới cánh đồng gấp 4 lần từ Cung điện tới cánh đồng. Bạn hãy tính xem nàng Bạch Tuyết phải chạy bộ quãng đường dài bao nhiêu nhé.



Bài giải

.....

.....

.....

.....

**Bài 6.** Trái tim của các bạn nhỏ từ 6-10 tuổi bình thường đập khoảng 90 nhịp mỗi phút, khi vận động mạnh có thể lên đến 220 nhịp mỗi phút.

a. Tính số nhịp tim đập bình thường trong 9 phút.

b. Tính số nhịp tim đập trong 6 phút khi vận động mạnh.



.....

.....

.....

.....

.....

.....

.....

**Bài 7.** Đặt bài toán theo tóm tắt sau rồi giải:

Tóm tắt:

Ngăn trên: 650 quyển sách

Ngăn dưới: gấp 2 lần ngăn trên

Cả hai ngăn: .... quyển sách?

Đề toán

.....

.....

.....

.....

.....

Bài giải

.....

.....


.....


.....

.....


## ĐÁP ÁN TUẦN 24

**Bài 1.** Hãy tô những bông hoa có chứa kết quả tương ứng với các màu dưới đây.







2042 x




4870 :



1205 x





3501 x





2000 :



**Bài 2.** Hãy giúp bạn Thỏ Bông vẽ kim đồng hồ chính xác nhé.


Thỏ Bông dậy lúc  
6 giờ 5 phút sáng


Thỏ Bông đi tắm  
lúc 6 giờ rưỡi






Thỏ Bông đánh răng  
lúc 7 giờ kém 15 phút



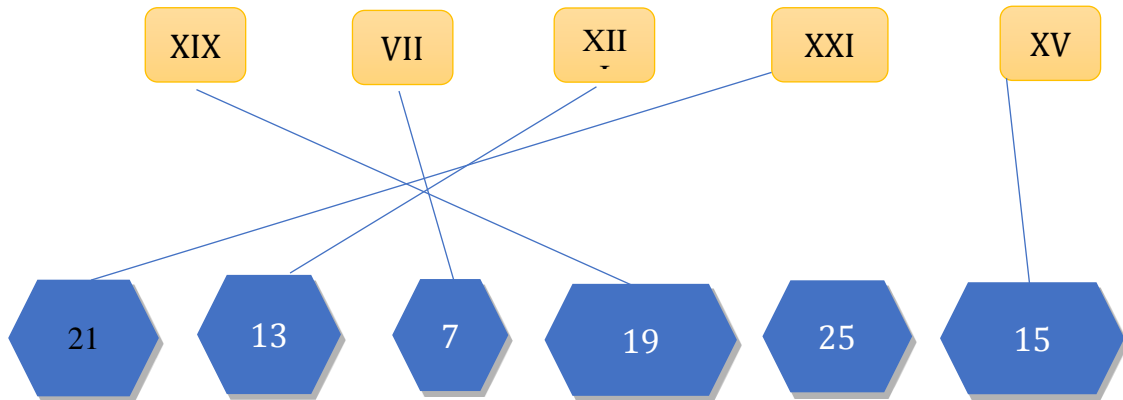
Thỏ Bông ăn sáng lúc  
7 giờ 30



8 giờ 20 phút sáng Thỏ  
Bông bắt đầu làm việc

**Bài 3.** Nối số La Mã với giá trị tương ứng.



**Bài 4.** Hãy sắp xếp các số La Mã theo thứ tự từ bé đến lớn.



**Bài 5.**

*Bài giải*

Nàng Bạch Tuyết phải chạy quãng đường dài là:

$$2500 \times 4 = 10000 \text{ (m)}$$

Đáp số: 10000m

**Bài 6.**

*Bài giải*

a. Số nhịp tim đập bình thường trong 9 phút là:

$$90 \times 9 = 810 \text{ (nhịp)}$$

b. Số nhịp tim đập trong 6 phút khi vận động mạnh.

$$220 \times 6 = 1320 \text{ (nhịp)}$$

Đáp số: 1320 nhịp



**Bài 7.** Đặt bài toán theo tóm tắt sau rồi giải:

Đề toán: Ngăn trên có 650 quyển sách, số sách ở ngăn dưới gấp 2 lần số sách ở ngăn trên. Hỏi cả hai ngăn có bao nhiêu quyển sách?

Bài giải

Ngăn dưới có số quyển sách là:

$$650 \times 2 = 1300 \text{ (quyển)}$$

Cả hai ngăn có số quyển sách là:

$$1300 + 650 = 1950 \text{ (quyển)}$$

Đáp số: 1950 quyển sách

HavaMATH