


## PHIẾU BÀI TẬP TUẦN 25 – LỚP 3

Bài 1. Xem tranh rồi điền giờ thích hợp vào chỗ chấm theo mẫu




a) Tùng tập thể dục lúc 6 giờ 15  
phút sáng




b) Tùng đi học lúc.....  
.....



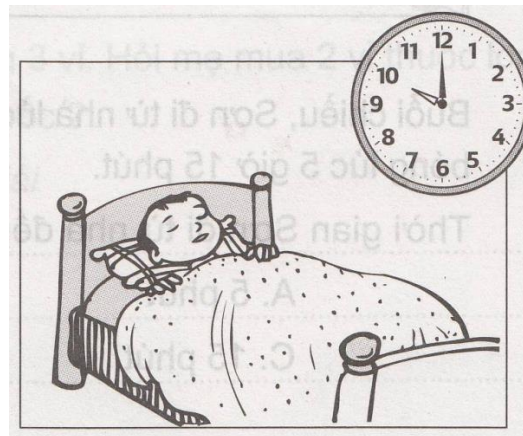
c) Tùng học bài ở lớp  
lúc.....



d) Tùng ăn cơm chiều  
lúc.....



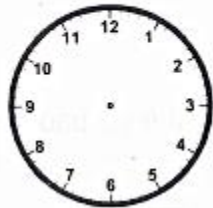
e) Tùng xem truyền hình lúc



g) Tùng đi ngủ lúc.....

**Bài 2. Vẽ kim giờ và kim phút để đồng hồ chỉ:**

8 giờ 10 phút



6 giờ 15 phút



7 giờ 45 phút



**Bài 3: Đặt tính rồi tính**

$2405 : 3$

$1529 \times 6$

$4025 \times 4$

$5101 : 6$

**Bài 4. Tính**

a)  $2000 \text{ đồng} + 3000 \text{ đồng} = \dots\dots\dots$       b)  $10000 \text{ đồng} - 5000 \text{ đồng} = \dots\dots\dots$

$1000 \text{ đồng} + 4000 \text{ đồng} = \dots\dots\dots$        $5000 \text{ đồng} - 2000 \text{ đồng} = \dots\dots\dots$

$10000 \text{ đồng} - 2000 \text{ đồng} = \dots\dots\dots$        $9000 \text{ đồng} - 6000 \text{ đồng} = \dots\dots\dots$

**Bài 5. Viết số thích hợp vào ô trống:**

Giá tiền hàng cần mua	Các cách trả	Số tờ mỗi loại tiền phải trả		
		1000 đồng	2000 đồng	5000 đồng
5000 đồng	Cách 1	5		
	Cách 2			
	Cách 3			
	Cách 4			
	Cách 5			
6000 đồng	Cách 1			
	Cách 2			
	Cách 3			
	Cách 4			

**Bài 6: Giải bài toán**

5 can dầu chứa 75l dầu. Hỏi 9 can dầu như thế chứa bao nhiêu lít dầu?

**Bài giải**

.....

.....

.....

.....

.....

.....

.....

.....

**Bài 7.** Một đội xe có 2 tổ chở gạch đến công trường. Tổ một có 3 xe, tổ hai có 5 xe, các xe chở được số gạch như nhau. Biết rằng tổ một chở được 5940 viên gạch. Hỏi tổ hai chở được bao nhiêu viên gạch?

**Bài giải**


.....

.....




## ĐÁP ÁN

### Bài 1. Xem tranh rồi điền giờ thích hợp vào chỗ chấm theo mẫu




a) Tùng tập thể dục lúc 6 giờ 15  
phút sáng

b) Tùng đi học lúc 7 giờ 20 phút sáng



c) Tùng học bài ở lớp lúc 10 giờ 30  
phút sáng

d) Tùng ăn cơm chiều lúc 6 giờ kém 15  
phút tối ( hay 5 giờ 45 phút tối)



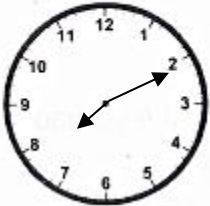
e) Tùng xem truyền hình lúc 8 giờ

10 phút

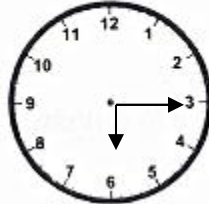
g) Tùng đi ngủ lúc 10 giờ tối ( hay 22 giờ)

## Bài 2. Vẽ kim giờ và kim phút để đồng hồ chỉ:

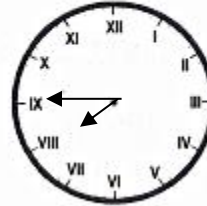
8 giờ 10 phút



6 giờ 15 phút



7 giờ 45 phút



## Bài 3: Đặt tính rồi tính

$$2405 : 3 = 801 \text{ dư } 2$$

$$1529 \times 6 = 9174$$

$$1025 \times 4 = 4100$$

$$5101 : 6 = 850 \text{ ( dư } 1)$$

## Bài 4.

a)  $2000 \text{ đồng} + 3000 \text{ đồng} = 5000 \text{ đồng}$

$1000 \text{ đồng} + 4000 \text{ đồng} = 5000 \text{ đồng}$

$10000 \text{ đồng} - 2000 \text{ đồng} = 8000 \text{ đồng}$

b)  $10000 \text{ đồng} - 5000 \text{ đồng} = 5000 \text{ đồng}$

$5000 \text{ đồng} - 2000 \text{ đồng} = 3000 \text{ đồng}$

$9000 \text{ đồng} - 6000 \text{ đồng} = 3000 \text{ đồng}$

## Bài 5. Viết số thích hợp vào ô trống:

Giá tiền hàng cần mua	Các cách trả	Số tờ mỗi loại tiền phải trả		
		1000 đồng	2000 đồng	5000 đồng
5000 đồng	Cách 1	5	0	0
	Cách 2	1	2	0
	Cách 3	0	0	1
	Cách 4	3	2	0
6000 đồng	Cách 1	6	0	0
	Cách 2	0	3	0

	Cách 3	1	0	1
	Cách 4	4	1	0

## Bài 6:

Bài giải:

1 can chứa số lít dầu là:

$$75 : 5 = 15 (l)$$

9 can dầu như thế chứa số lít dầu là

$$15 \times 9 = 135 (l)$$

Đáp số: 135 l dầu

## Bài 7.

Bài giải

Mỗi xe chở được số viên gạch là:

$$5940 : 3 = 1980 \text{ (viên gạch)}$$

Tổ hai chở được số viên gạch là:

$$1980 \times 5 = 9900 \text{ (viên gạch)}$$

Đáp số: 9900 viên gạch

## Bài 8:

Bài giải

Mỗi công nhân làm được số sản phẩm là :

$$4689 : 9 = 521 \text{ (sản phẩm)}$$

5 công nhân như thế làm được số sản phẩm là :

$$521 \times 5 = 2605 \text{ (sản phẩm)}$$

Đáp số : 2605 sản phẩm

## Bài 9:

Bài giải

Hùng có tất cả số tiền là :

$$1000 + 2000 + 5000 = 10000 \text{ (đồng)}$$

Đáp số : 10000 đồng

HavaMATH