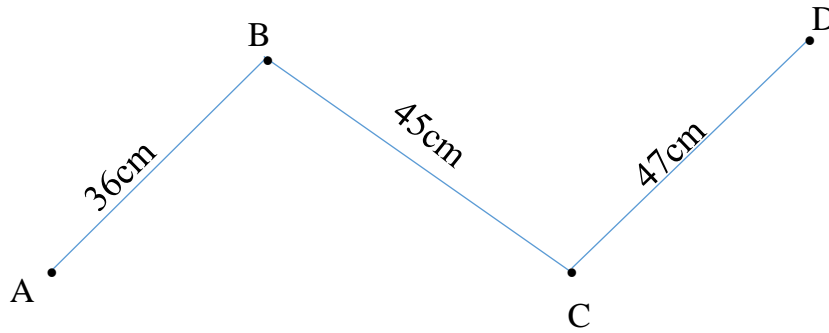


PHIẾU BÀI TẬP CUỐI TUẦN 3 – LỚP 3

Bài 1.

a. Tính độ dài đường gấp khúc ABCD:



.....

.....

.....

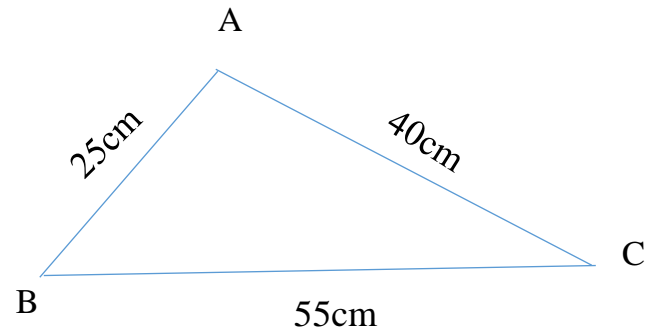
.....

b. Tính chu vi hình tam giác MNP:

.....

.....

.....



Bài 2. Đo độ dài mỗi cạnh của hình chữ nhật ABCD rồi viết tiếp vào chỗ chấm



Chu vi hình chữ nhật ABCD là:

Bài 3. An cân nặng 35kg, Bình cân nặng 32kg. Hỏi Bình nhẹ hơn An bao nhiêu ki – lô – gam?

Bài giải

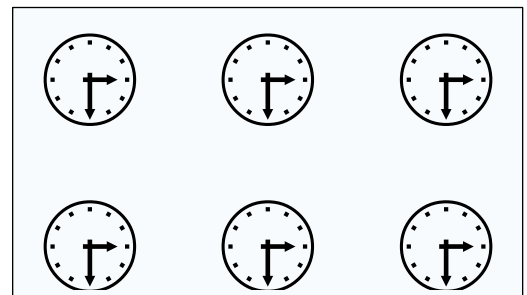
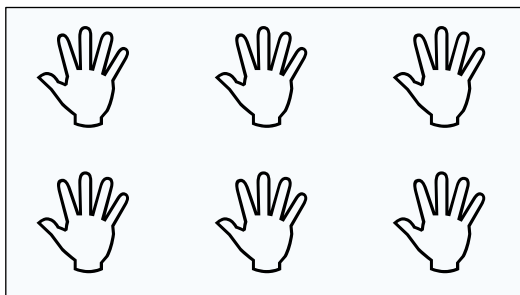
.....
.....
.....

Bài 4. Một cửa hàng ngày thứ nhất bán được 735 lít xăng, ngày thứ hai bán được ít hơn ngày thứ nhất 151 lít xăng. Hỏi ngày thứ hai cửa hàng bán được bao nhiêu lít xăng?

Bài giải

.....
.....
.....

Bài 5. Khoanh vào $\frac{1}{2}$ số bàn tay, $\frac{1}{3}$ chiếc đồng hồ



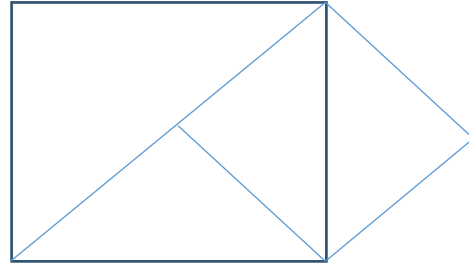
Bài 8. Em đi học ở trường từ lúc 7 giờ sáng đến 4 giờ chiều. Hỏi em học ở trường trong mấy giờ?

Bài giải

.....
.....
Bài 9. Viết số thích hợp vào chỗ chấm:

Trong hình bên:

- Cóhình vuông
- Cóhình tam giác



Bài 10. Viết tiếp vào chỗ chấm:

Bắc có nhiều hơn Trung 17 viên bi. Trung có ít hơn Nam 12 viên bi. Hỏi:

- ai có nhiều bi nhất? Ai có ít bi nhất?
- Bắc và Nam hơn kém nhau bao nhiêu viên bi?

Đáp số:.....