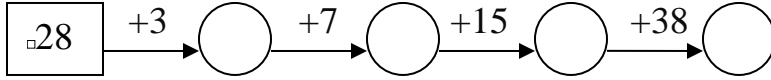
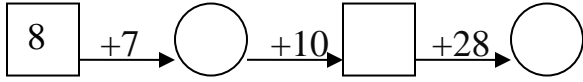


PHIẾU BÀI TẬP CUỐI TUẦN 5 – LỚP 2

Bài 1: Số?



Bài 2: Xuân có 15 quyển vở, Xuân có nhiều hơn Thu 3 quyển vở. Hỏi Thu có bao nhiêu quyển vở?

Bài giải

.....

.....

.....

Bài 3: Giải bài toán dựa theo tóm tắt:

Tóm tắt

Bài giải

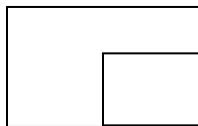
Ngăn trên: 18 quyển sách

Ngăn dưới: 27 quyển sách

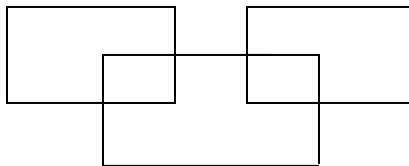
Cả 2 ngăn: Quyển sách?

.....

Bài 4: Số?



Có hình chữ nhật



Có ... hình chữ nhật