

PHIẾU BÀI TẬP CUỐI TUẦN 8 – LỚP 1

Bài 1. Tính:

$6 + 1 = \dots$

$7 + 3 = \dots$

$5 + 5 = \dots$

$2 + 5 = \dots$

$4 + 4 = \dots$

$7 + 2 = \dots$

$8 + 1 = \dots$

$5 + 3 = \dots$

$1 + 9 = \dots$

Bài 2. Điền dấu +, - vào chỗ chấm cho thích hợp

$3 \dots 2 = 5$

$5 \dots 4 = 1$

$1 \dots 3 = 4$

$5 \dots 2 = 3$

$2 \dots 2 = 4$









$0 \dots 5 = 5$

$5 \dots 3 = 2$

$4 \dots 3 = 1$

$4 \dots 2 \dots 3 = 5$

Bài 3. Nối tranh vẽ với phép tính thích hợp

$5 + 4$

$3 + 2$

$6 + 2$

$5 + 2$

Bài 4. Sắp xếp các phép tính theo thứ tự kết quả từ bé đến lớn

$2 + 1$; $8 + 1$; $1 + 1$; $5 + 1$; $0 + 1$; $6 + 1$; $3 + 1$; $9 + 1$; $7 + 1$; $4 + 1$

.....