














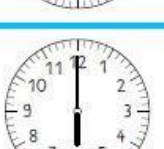
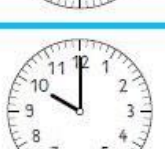
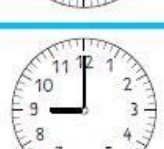


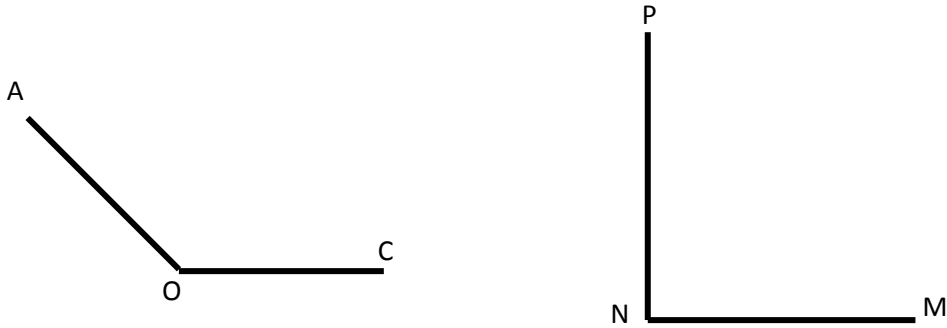
PHIẾU BÀI TẬP CUỐI TUẦN 9 – LỚP 3

Bài 1. Viết dấu x vào ô trống dưới đồng hồ có hai kim tạo thành góc vuông:


|   |   |  |
|---|---|--|
|    |    |    |
|    |    |    |
|    |    |    |
|   |   |   |
|  |  |  |
|  |  |  |

Bài 2. Viết tiếp vào chỗ chấm cho thích hợp:

- a. Góc không vuông đỉnh .....; b. Góc .....  
 cạnh ..... cạnh .....



**Bài 3.** Dùng e ke vẽ góc vuông: đỉnh A, đỉnh B, đỉnh C

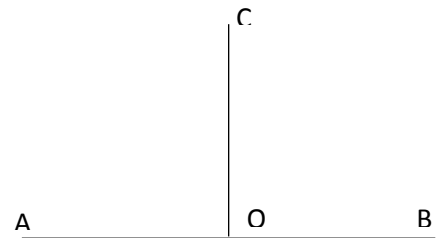


**Bài 4.**

a. Viết số thích hợp vào chỗ trống:

Trong hình bên có các góc vuông là:

- Góc vuông đỉnh .....; cạnh .....
- Góc vuông đỉnh .....; cạnh .....



b. Vẽ thêm 1 đoạn thẳng vào hình để được hình mới có 4 góc vuông

**Bài 5.** Đúng ghi Đ, sai ghi S

a.  $9 \text{ dam} + 7 \text{ dam} = 16 \text{ dm} \dots$

b.  $15 \text{ hm} - 6 \text{ hm} = 9 \text{ hm} \dots$

c.  $21 \text{ m} - 8 \text{ m} + 19 \text{ m} = 22 \text{ m} \dots$

**Bài 6.** Nói

1 hm

1 dam

1 m

1 dm

10 cm

10

10 m

10 dm

**Bài 7.** Viết số thích hợp vào chỗ chấm:


$7\text{dm } 5\text{cm} = \dots\dots \text{ cm}$

$5\text{m } 5\text{cm} = \dots\dots\dots \text{ cm}$

$4\text{km } 15 \text{ m} = \dots\dots \text{ m}$

$3\text{hm } 4\text{m} = \dots\dots\dots \text{ m}$

**Bài 8.** Tính độ dài đường gấp khúc ABC dưới đây



Bài giải

.....  
.....  
.....  
.....