

PHIẾU BÀI TẬP CUỐI TUẦN 9 – TOÁN 1

Bài 1. Tính nhẩm:

$3 + 6 = \dots$

$1 + 7 = \dots$

$9 + 0 = \dots$

$0 + 9 = \dots$

$2 + 8 = \dots$

$5 + 5 = \dots$

$8 + 0 = \dots$

$0 + 8 = \dots$

$6 + 2 = \dots$

$3 + 4 = \dots$

$0 + 10 = \dots$

$10 + 0 = \dots$

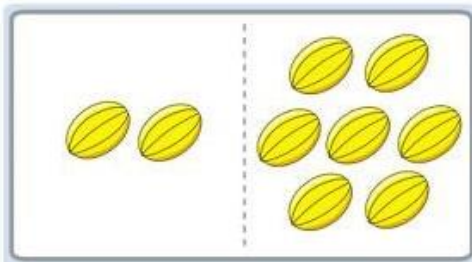

Bài 2. Viết số thích hợp vào ô trống

10		
8	+	
	+	4
7	+	
	+	1

7		
1	+	
	+	0
3	+	
	+	2

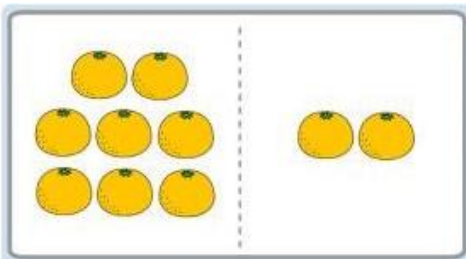

5		
	+	4
5	+	
2	+	
	+	1

Bài 3. Nêu phép tính thích hợp với mỗi tranh vẽ:



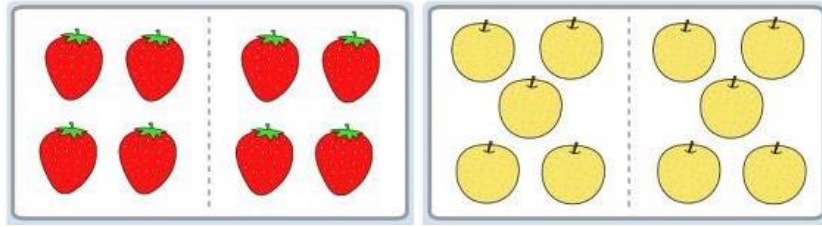
.....

.....



.....

.....



.....
.....
Bài 4. Nối phép tính với kết quả thích hợp

$8 + 1$	$4 + 3$	$2 + 5$	$8 + 2$	$8 + 0$	$3 + 6$
	9	8	7	10	
$1 + 6$	$4 + 4$	$0 + 9$	$1 + 7$	$4 + 6$	$5 + 5$